

Αισθητοποίηση και πράξεις αριθμών μέχρι το 10










1 Να συμπληρώσεις παίρνοντας γραπτώς όποιες σημειώσεις θέλεις.

- | | | | |
|-----------------------------------------|-----------------------------------------|----------------------------------------|----------------------------------------|
| 1. $3 + 1 =$ <input type="text"/> | 2. $4 + 4 =$ <input type="text"/> | 3. $6 + 3 =$ <input type="text"/> | 4. $2 + 7 =$ <input type="text"/> |
| 5. $9 - 4 =$ <input type="text"/> | 6. $7 - 3 =$ <input type="text"/> | 7. $6 - 5 =$ <input type="text"/> | 8. $8 - 1 =$ <input type="text"/> |
| 9. $2 + 3 + 4 =$ <input type="text"/> | 10. $6 + 3 + 1 =$ <input type="text"/> | 11. $7 + 1 + 1 =$ <input type="text"/> | 12. $5 + 2 + 3 =$ <input type="text"/> |
| 13. $8 \times 4 =$ <input type="text"/> | 14. $3 \times 3 =$ <input type="text"/> | 15. $8 \div 2 =$ <input type="text"/> | 16. $9 \div 3 =$ <input type="text"/> |

2 Να υπολογίσεις με νοερές πράξεις το αποτέλεσμα.

- | | | |
|--------------|------------------|------------------|
| 1. $2 + 3 =$ | 2. $2 + 2 + 3 =$ | 3. $3 + 4 + 1 =$ |
| 4. $9 - 2 =$ | 5. $10 - 5 =$ | 6. $3 + 4 - 2 =$ |

3 Να συμπληρώσεις τα κενά σύμφωνα με τα παραδείγματα.

3			2	
6				5
2				
8				9
10				

4 Να σχεδιάσεις ή να διαγράψεις αντικείμενα, για να υπάρχουν ακριβώς όσα δείχνει ο αριθμός σε κάθε εικόνα.

4 μπανάνες 	6 μήλα 	7 αυγά 
2 αστέρια 	8 σταγόνες 	1 λουλούδι 

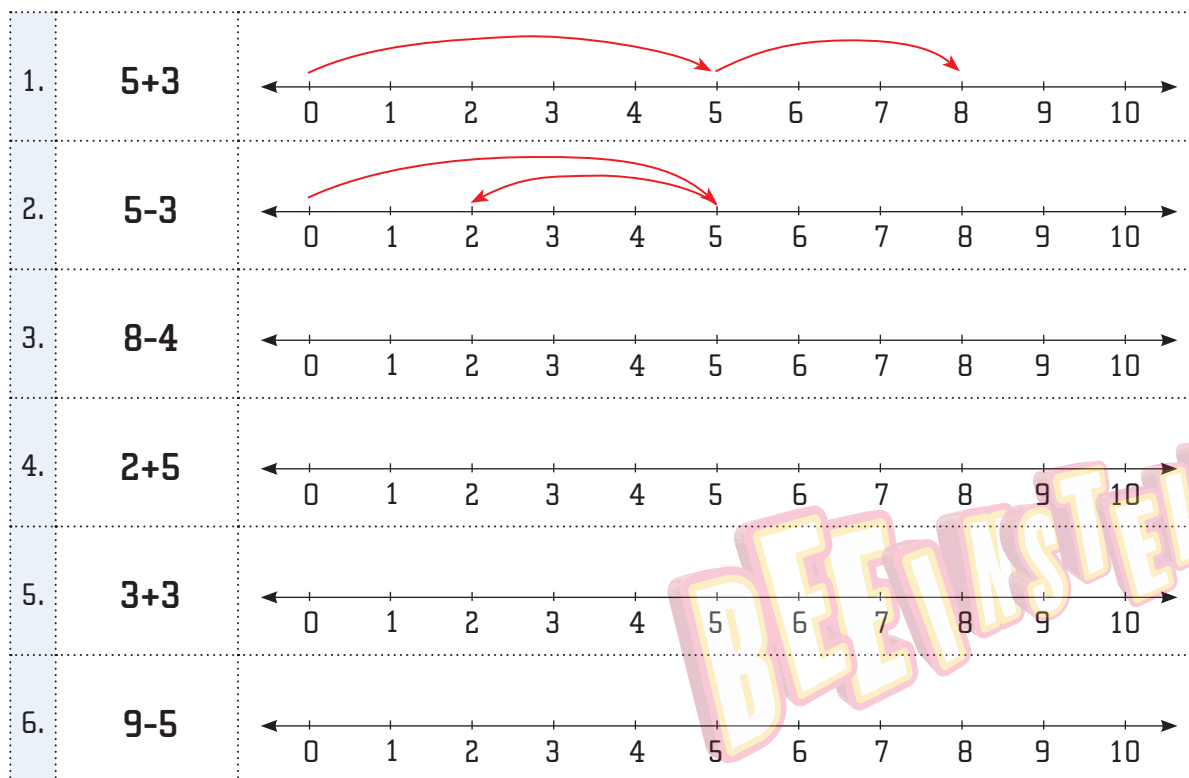
5 Να γράψεις μια μαθηματική πρόταση για το κάθε πρόβλημα (π.χ. $4 \times 2 = 8$).

1. Η Μαρία είχε 9 μολύβια. Τα μοίρασε σε 3 φίλες της. Πόσα πήρε η κάθε μία;

2. Ο Στέφανος έχει 2 κασετίνες. Η κάθε κασετίνα έχει μέσα 4 μολύβια. Πόσα μολύβια έχει συνολικά ο Στέφανος;

3. Τρεις φίλοι ένωσαν τα χρήματά τους για να δώσουν δώρο σε έναν συμμαθητή τους που είχε ανάγκη. Ο Λευτέρης έδωσε €3, η Ηλιάνα €4 και η Ράνια €3. Πόσα χρήματα έδωσαν συνολικά για να αγοράσουν το δώρο;

6 Να συμπληρώσεις με κόκκινα βέλη όπως τα παραδείγματα 1 και 2.



7 Να λύσεις τα πιο κάτω προβλήματα.

1. Ο Ιάσωνας είναι 9 χρονών. Ο αδερφός του ο Ορέστης είναι 2 χρόνια μικρότερος. Πόσων χρονών είναι ο Ορέστης;

A: 6

B: 8

Γ: 7

Δ: 5

Ε: Κανένα από τα Α – Δ

2. Η Σοφία ξεκίνησε να μετράει από το 5 και να προσθέτει 1 κάθε φορά. Ποιος είναι ο 3^{ος} αριθμός που θα πει μετά το 5;

Απάντηση:

3. Ένα λεωφορείο είχε 9 επιβάτες. Στην επόμενη στάση κατέβηκαν 4 επιβάτες και στην άλλη στάση ανέβηκαν 2 επιβάτες. Πόσους επιβάτες έχει τώρα το λεωφορείο;

Απάντηση: