

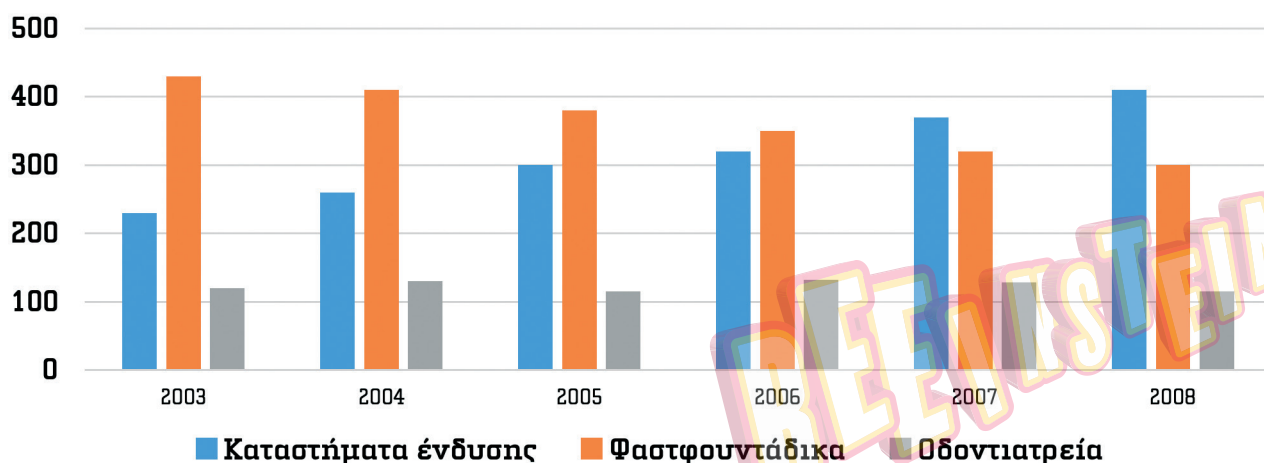
Αισθητοποίηση και πράξεις αριθμών μέχρι το 1000

1 Να συμπληρώσεις τα κενά, παίρνοντας γραπτώς όποιες σημειώσεις θέλεις.

1. 5 20	2. 24 40	3. 60 90	4. 30 60
5. 20 40	6. 80 85	7. 100 300	8. 77 99
9. 27 36	10. 88 96	11. 333 444	12. 121 163
13. 999 898	14. 90 120	15. 250 300	16. 109 100
17. 420 480	18. 63 49	19. 550 250	20. 750 710

2 Να μελετήσεις την πιο κάτω γραφική παράσταση και να απαντήσεις στις ερωτήσεις που ακολουθούν.

Αριθμός επιχειρήσεων στη Θεσσαλονίκη



1. Με ποιο χρώμα παρουσιάζονται οι επιχειρήσεις που αφορούν σε φαστφουντάδικα;

1.

2. Ποιο είδος επιχειρήσεων παρουσιάζει συνεχή μείωση, καθώς προχωρούσαν τα χρόνια;

2.

3. Περίπου πόσα οδοντιατρεία υπήρχαν το 2007;

3.

4. Περίπου πόσα φαστφουντάδικα υπήρχαν το 2004;

4.

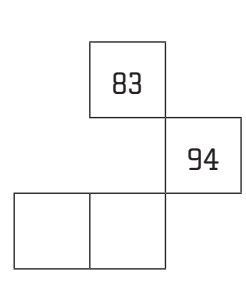
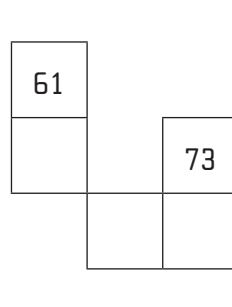
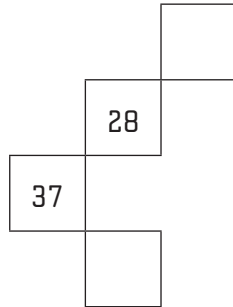
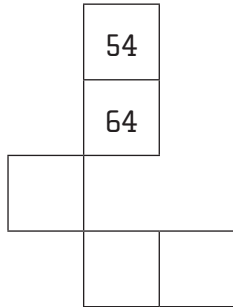
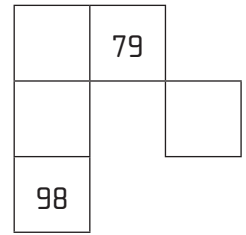
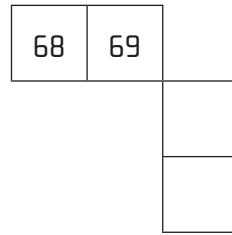
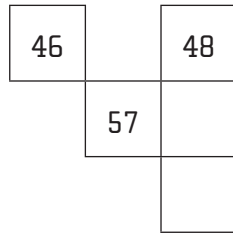
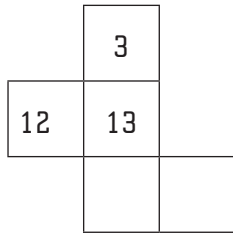
5. Πόση περίπου ήταν η διαφορά ανάμεσα στα καταστήματα ένδυσης το 2005 και το 2008;

5.

6. Περίπου πόσα ήταν συνολικά τα καταστήματα και των τριών ειδών το 2008;

6.

3 Να συμπληρώσεις τα πιο κάτω τμήματα του πίνακα αριθμών του 100. Να εξηγήσεις τον τρόπο σκέψης σου.



4 Να βάλεις σε κύκλο την αξία του χρωματισμένου ψηφίου σε κάθε περίπτωση, όπως στο παράδειγμα.

43	71	16	39
30	1	10	10
3	10	1	3
87	28	52	67
70	7	20	2
70	7	20	2

5 Να γράψεις τους πιο κάτω αριθμούς σε σειρά, αρχίζοντας από τον μεγαλύτερο.

87, 100, 237, 16, 521, 44

6 Να χρησιμοποιήσεις τα πιο κάτω ψηφία μια φορά το καθένα, για να:

8, 0, 2, 3

Γράψεις τον μεγαλύτερο και τον μικρότερο διψήφιο αριθμό.

Γράψεις τον διψήφιο αριθμό που είναι πλησιέστερος στο 47.

Γράψεις τους 2 διψήφιους αριθμούς που έχουν τη μεγαλύτερη διαφορά μεταξύ τους.